

深圳大学期末考试试卷

开/闭卷 开卷

A/B 卷 不分

课程编号 8003020001

课程名称

经济数据解读

学分 2

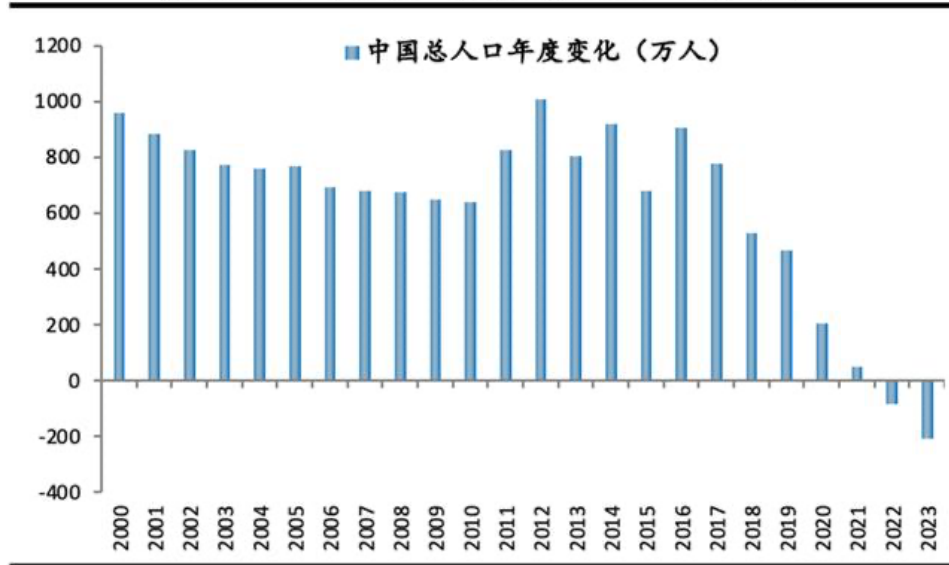
命题人(签字) _____ 审题人(签字) _____ 年 _____ 月 _____ 日

题号	一	二	三	四	五	六	七	八	九	十	基本题 总分	附加题
得分												
评卷人												

选题 1. 2023 年以来,在美联储加息、全球经济增长放缓等因素的共同作用下,全球经济体货币汇率涨跌互现,美元升值明显。根据《2023 年中国国际收支报告》显示:2023 年我国国际收支运行总体稳健。其中经常账户顺差 2530 亿美元,与国内生产总值 GDP 之比为 1.4%,继续处于合理均衡区间。非储备性质的金融账户逆差 2099 亿美元,与经常账户顺差保持自主平衡格局,其中外商直接投资延续净流入。理论上来说国际收支顺差人民币对于外币有升值要求,逆差又会带来人民币贬值压力。请根据以上数据并收集其他相关数据,就人民币兑换美元汇率走势(2023 年)背后的因素进行分析。

选题 2. 知名经济学者任泽平在《中国人口形势报告 2024: 出生人口和生育率可能会有小幅反弹》¹一文中给出了下面三个图:

图表: 中国人口总量连续两年负增长



资料来源: 国家统计局, 育娲人口

座号

学号

姓名

专业

学院

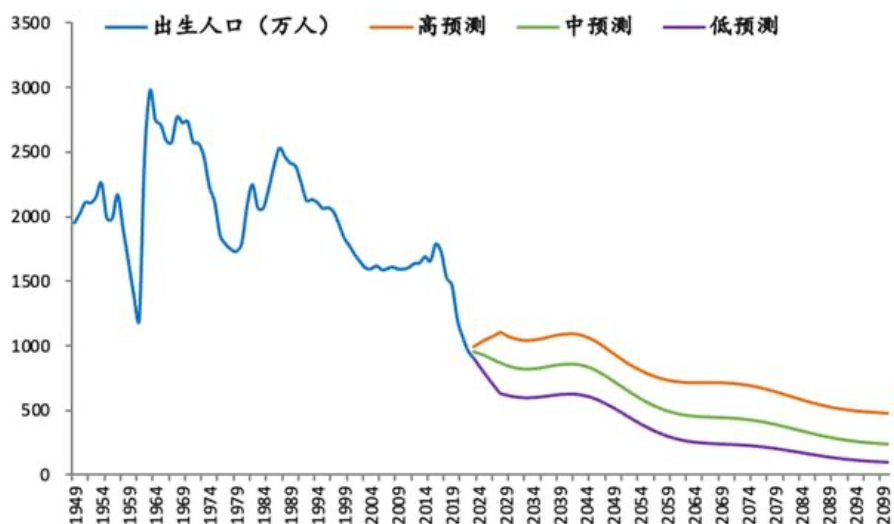
(密封线内不答题)

线

封

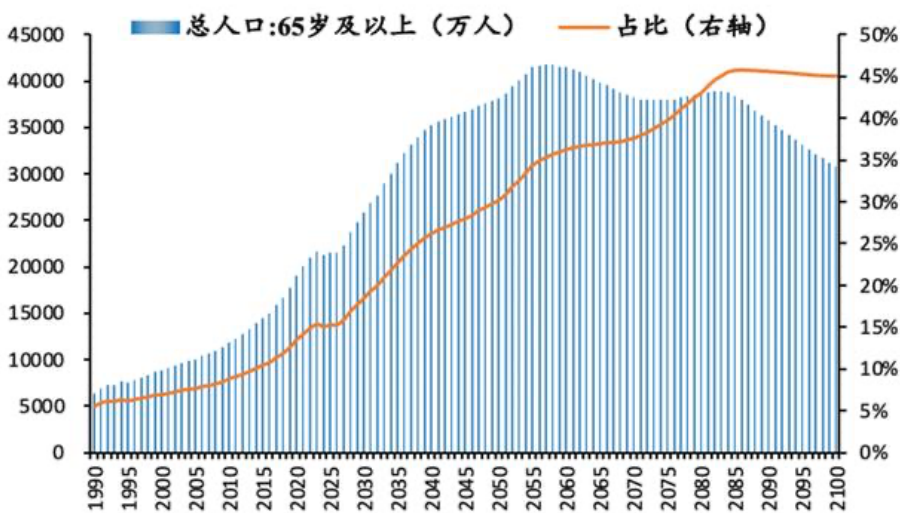
密

图表：出生人口连续七年下降



资料来源：国家统计局，育娲人口

图表：我国老龄化速度明显加快



资料来源：国家统计局，育娲人口

请收集相关经济数据，谈谈你对于人口结构的变化对于经济影响的看法。

选题 3. 诺贝尔经济学获奖者保罗·萨缪尔森写到“从同样的数据出发，保守派会预言高通货膨胀的危险，而社会改良者会警告衰退的出现”。对于经济数据解读，总是仁者见仁、智者见智。请你阐述一下解读经济数据意义何在？

要求：

1. 在 3 个选题中可任选 1 题，题目自拟，在规定时间内完成，逾期视为缺考。
2. 要求原创，不得抄袭他人文章，如主要内容出现抄袭则以不及格处理。如参考他人分析请注明参考文献。
3. 要求参照本课程所学，发现数据背后潜藏的信息，并综合进行分析解读，建议结

合表、图的形式进行经济现象数据的解读。

4. 要求采用学校统一模板(<https://jwb.szu.edu.cn/info/1074/1077.htm>), 提交纸质版(手写、打印均可), 正反两面打印, 12号字(=小四), 行间距20磅(20pt)。

提交时间和地点:

- 01班(主讲教师: 雍炜)

6月24日(星期一) 17:30-18:30, 粤海校区汇文楼 H3-203

6月25日(星期二) 17:30-18:30, 丽湖校区四方楼南 313

- 02班(主讲教师: 黄嘉平)

6月26日(星期三) 13:00-17:00, 丽湖校区守正楼 A座三楼 A317 共享办公室